



اعداد گویای بین دو عدد گویا

● مهدی قربانی

کاربرد این روش نشان می‌دهد، بی‌شمار عدد گویا بین دو عدد وجود دارند، هرچند که آن دو عدد بسیار به هم نزدیک باشند. روش فوق می‌تواند، الگوی مناسبی برای تعیین و نوشتن اعداد گویای بین دو عدد گویای مفروض باشد. اما آیا روش‌های دیگری نیز وجود دارند؟

پاسخ این سؤال مثبت است. در ادامه روش‌های دیگری را می‌توانید ببینید.

۱. می‌دانیم که میانگین دو عدد بین آن دو عدد است. یعنی اگر a و b دو عدد باشند که $a < b$ ، آن‌گاه: $a < \frac{a+b}{2} < b$

برای مثال: $\frac{3}{5} < \frac{4}{5}$ و با محاسبه‌ی میانگین آن دو خواهیم داشت:

$$\frac{1}{2} \left(\frac{3}{5} + \frac{4}{5} \right) = \frac{7}{10}$$

و در نتیجه:

$$\frac{3}{5} < \frac{7}{10} < \frac{4}{5}$$

استفاده از این روش هنگامی که اعداد مورد نظر صحیح نباشند، قدری مشکل و وقت‌گیر است.

۲. روش دوم از این مطلب استفاده می‌کنیم که اگر در مورد دو

کسر $\frac{a}{b}$ و $\frac{c}{d}$ داشته باشیم: $\frac{a}{b} < \frac{c}{d}$ ، آن‌گاه: $\frac{a}{b} < \frac{a+c}{b+d} < \frac{c}{d}$

آیا تا کنون فکر کرده‌اید، بین دو عدد گویا مانند $\frac{2}{5}$ و $\frac{4}{7}$ چند عدد گویا وجود دارد؟

شاید با استفاده از کسرهای مساوی و نوشتن آن‌ها به صورت:

$$\frac{4}{7} = \frac{20}{35} \quad \text{و} \quad \frac{2}{5} = \frac{24}{35}$$

بگوئید، اعداد $\frac{21}{35}$ ، $\frac{22}{35}$ ، $\frac{23}{35}$ کسرهایی هستند که بین دو کسر

$\frac{2}{5}$ و $\frac{4}{7}$ قرار دارند. در این جا توانستیم سه عدد گویا بیابیم که بین $\frac{2}{5}$

و $\frac{4}{7}$ هستند. اکنون اگر بخواهیم سه عدد گویا بنویسیم که بین $\frac{4}{7}$ و

$\frac{4}{7}$ باشند، چه خواهید گفت؟ اگر مانند روش قبل عمل کنیم خواهیم

داشت:

$$\frac{4}{7} = \frac{20}{35} \quad \text{و} \quad \frac{3}{5} = \frac{21}{35}$$

در این جا راهبرد قبل کارساز نیست. اما با اندکی دقت و با استفاده

از اعداد اعشاری می‌توان نوشت:

$$\frac{20}{35}, \frac{20}{35}, \frac{20}{35}, \frac{20}{35}, \frac{20}{35}, \frac{20}{35}, \dots$$

و یا

$$\frac{201}{350}, \frac{202}{350}, \frac{203}{350}, \dots, \frac{209}{350}, \dots$$

بحث، می توان به روش جالبی رسید که آن را با مثالی توضیح می دهیم.

مثال: ۱۰۰ عدد بنویسید که هر یک از آن ها از $\frac{19}{20}$ کوچک تر و از $\frac{18}{20}$ بزرگ تر باشند.

ابتدا صورت و مخرج هر دو کسر را در ۱۰۱ (یک واحد بیشتر از تعداد اعداد) ضرب می کنیم:

$$\frac{18}{20} = \frac{1818}{2020} \text{ و } \frac{19}{20} = \frac{1919}{2020}$$



اکنون دقت کنید که بین دو عدد ۱۹۱۹ و ۱۸۱۸ صد عدد صحیح وجود دارد:

۱۸۱۹ و ۱۸۲۰ و ۱۸۲۱ و ... و ۱۹۱۷ و ۱۹۱۸

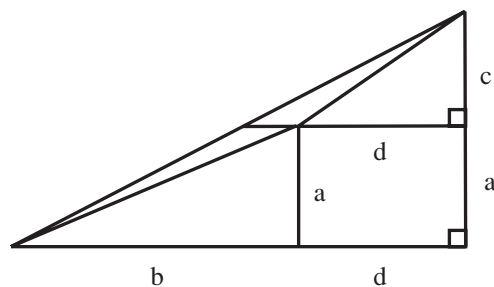
بنابراین صد عددی که از $\frac{19}{20}$ کوچک تر و از $\frac{18}{20}$ بزرگ تر هستند،

می توانند چنین باشند:

$$\frac{1819}{2020}, \frac{1820}{2020}, \frac{1821}{2020}, \dots, \frac{1917}{2020}, \frac{1918}{2020}$$



یعنی $\frac{a+c}{b+d}$ ، کسری که صورت آن مجموع صورت دو کسر و مخرج آن مجموع مخرج دو کسر است، عددی است که بین دو کسر قرار دارد. آیا می توانید استدلال بیاورید؟
یک روش می تواند، دلیل شهودی به صورت زیر باشد. آن را توصیف کنید.



$$\frac{a}{b} < \frac{c}{d} \Rightarrow \frac{a}{b} < \frac{a+c}{b+d} < \frac{c}{d}$$

با استفاده از این ویژگی عددهای میانی، به سهولت می توان

کسری نوشت که بین $\frac{4}{7}$ و $\frac{3}{5}$ باشد:

$$\frac{4}{7} < \frac{4+3}{7+5} < \frac{3}{5}$$

یا

$$\frac{4}{7} < \frac{4}{12} < \frac{3}{5}$$

با ادامه ی این روش خواهیم داشت:

$$\frac{4}{7} < \frac{4}{12} < \frac{10}{17} < \frac{13}{22} < \frac{16}{27}$$

متوجه شدید که با به کارگیری روش های متفاوت، عددهای متفاوتی به دست می آیند و پاسخ ها متفاوت می شوند. اما مشکلی ایجاد نمی شود، زیرا در هر روش عددهایی به دست می آیند که بزرگ تر از $\frac{4}{7}$ و کوچک تر از $\frac{3}{5}$ هستند و از این گونه عددها می توان به تعداد بی شماری یافت.

تا کنون چند روش را یاد گرفته اید که هر یک در شرایط خاصی می تواند سودمند باشد. آیا روش های دیگری نیز وجود دارند؟
۳. با الهام گرفتن از روش استفاده از اعداد اعشاری در ابتدای